

MAHARSHI DAYANAND UNIVERSITY ROHTAK

MOST URGENT

No. CPA/COE/12 **1635**
Dated: **11-9-12**

To

✓ The Assistant General Manager,
NYSA Communications Pvt. Ltd.,
Rohtak,

Subject: Displaying Question Booklets & Answer-Keys on the University's Website

Dear Sir,

I am desired to send herewith two question booklets, along with their answer-keys, relating to the Written Test conducted on 02.09.2012 in Morning and Evening Sessions for recruitment to the posts of Clerk-cum-Junior Data Entry Operators. In terms of the order of the Registrar, you are requested to kindly get their scanned copy displayed on the University's Website at the earliest, **under intimation to this office.**

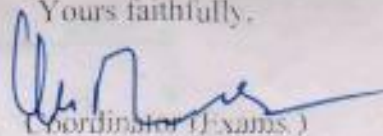
Their details are as under:

Question Booklet Sr. No.	Question Booklet Set-Code	Booklet code	Answer-Key related to
69645	CJDEOT-2012/SET-'Y' (Used in Morning Session)	'A'	CJDEOT-2012/SET-Y (Code-'A')
76905	CJDEOT-2012/SET-'Z' (Used in Evening Session)	'A'	CJDEOT-2012/SET-Z (Code-'A')

Kindly acknowledge its receipt.

Encls: As above.

Yours faithfully,


Coordinator (Exams.)


Endst. No. CPA/COE/2012/

Dated:

A copy of the above, along with two question booklets and their Answer-Key(s) as per details given below, is forwarded to the Superintendent I/C (Estt.), M.D. University, Rohtak for information and necessary action/ record, w.r.t. his office Endst. No. EN-5/12/ Rectt./M-35/14102 dated 7.9.2012:

Question Booklet Sr. No.	Question Booklet Set-Code	Booklet code	Answer-Key related to
69689	CJDEOT-2012/SET-'Y' (Used in Morning Session)	'A'	CJDEOT-2012/SET-Y (Code-'A')
76940	CJDEOT-2012/SET-'Z' (Used in Evening Session)	'A'	CJDEOT-2012/SET-Z (Code-'A')

Encls: As above.


Coordinator (Exams.)

*Most URGENT
Phu 6
11/9*

Sh. Kuldeep ji

ANSWER KEY CLERK-CUM-JR. DATA ENTRY OPERATOR (CJDEOT-2012/SET-Y)

CODE-A

EXAMINATION HELD ON 02.09.2012 (MORNING SESSION)

<u>1 - 3</u>	<u>26 - 3</u>	<u>51 - 1</u>	<u>76 - 4</u>
<u>2 - 2</u>	<u>27 - 1</u>	<u>52 - 2</u>	<u>77 - 3</u>
<u>3 - 1</u>	<u>28 - 3</u>	<u>53 - 3</u>	<u>78 - 2</u>
<u>4 - 1</u>	<u>29 - 3</u>	<u>54 - 3</u>	<u>79 - 3</u>
<u>5 - 1</u>	<u>30 - 2</u>	<u>55 - 3</u>	<u>80 - 1</u>
<u>6 - 2</u>	<u>31 - 1</u>	<u>56 - 4</u>	<u>81 - 3</u>
<u>7 - 1</u>	<u>32 - 3</u>	<u>57 - 2</u>	<u>82 - 2</u>
<u>8 - 2</u>	<u>33 - 2</u>	<u>58 - 1</u>	<u>83 - 4</u>
<u>9 - 4</u>	<u>34 - 4</u>	<u>59 - 4</u>	<u>84 - 1</u>
<u>10 - 2</u>	<u>35 - 3</u>	<u>60 - 3</u>	<u>85 - 4</u>
<u>11 - 4</u>	<u>36 - 1</u>	<u>61 - 4</u>	<u>86 - 4</u>
<u>12 - 4</u>	<u>37 - 4</u>	<u>62 - 3</u>	<u>87 - 1</u>
<u>13 - 3</u>	<u>38 - 4</u>	<u>63 - 4</u>	<u>88 - 2</u>
<u>14 - 2</u>	<u>39 - 3</u>	<u>64 - 4</u>	<u>89 - 3</u>
<u>15 - 1</u>	<u>40 - 2</u>	<u>65 - 4</u>	<u>90 - 3</u>
<u>16 - 3</u>	<u>41 - 2</u>	<u>66 - 2</u>	<u>91 - 4</u>
<u>17 - 4</u>	<u>42 - 1</u>	<u>67 - 2</u>	<u>92 - 1</u>
<u>18 - 4</u>	<u>43 - 2</u>	<u>68 - 2</u>	<u>93 - 2</u>
<u>19 - 3</u>	<u>44 - 1</u>	<u>69 - 4</u>	<u>94 - 4</u>
<u>20 - 2</u>	<u>45 - 4</u>	<u>70 - 4</u>	<u>95 - 2</u>
<u>21 - 4</u>	<u>46 - 3</u>	<u>71 - 1</u>	<u>96 - 2</u>
<u>22 - 2</u>	<u>47 - 4</u>	<u>72 - 3</u>	<u>97 - 2</u>
<u>23 - 4</u>	<u>48 - 2</u>	<u>73 - 4</u>	<u>98 - 1</u>
<u>24 - 2</u>	<u>49 - 1</u>	<u>74 - 1</u>	<u>99 - 2</u>
<u>25 - 4</u>	<u>50 - 3</u>	<u>75 - 1</u>	<u>100 - 2</u>

PLM
11/9/12

(No. of printed pages : 32)

(DO NOT OPEN THIS QUESTION BOOKLET UNTIL YOU ARE ASKED TO DO SO)

69645

(CJDEOT-2012/SET-Y)

Sr. No. _____

Code

A

Time : 90 minutes

Total Questions : 100

Max. Marks : 100

Candidate's Name _____ Date of Birth _____

Father's Name : _____ Mother's Name : _____

Roll No. _____ (in figure) _____ (in words)

Date of Exam : _____

(Signature of the Candidate)

(Signature of the Invigilator)

Candidates MUST read the following instructions carefully before starting the question paper.

प्रश्न-पत्र हल करने से पूर्व, अभ्यर्थीगण निम्नलिखित अनुदेशों को ध्यानपूर्वक पढ़ लें।

1. All questions are compulsory. All questions carry equal marks.

सभी प्रश्न अनिवार्य हैं। सभी प्रश्नों के अंक समान हैं।

2. Before answering the questions, the candidates should ensure that they have been supplied complete question book-lets. Complaints, if any, regarding misprinting etc. will not be entertained 15 minutes after the start of the test.

प्रश्न-पत्र हल करने से पूर्व, अभ्यर्थीगण यह सुनिश्चित कर लें, कि उन्हें पूरी प्रश्न-पत्रिका मिली है। परीक्षा शुरू होने के 15 मिनट बाद इस सन्दर्भ में कोई शिकायत नहीं सुनी जाएगी।

3. In case there is any discrepancy in any question(s) in the Question Booklet, the same may be brought to the notice of the Controller of Examinations in writing **within two hours** after the test over. No such complaint(s) will be entertained thereafter.

यदि प्रश्न-पत्र में किसी प्रश्न से सम्बन्धित कोई त्रुटि हो तो उस बारे में लिखित सूचना/शिकायत परीक्षा समाप्त होने के दो घण्टे के अन्दर-2, परीक्षा नियंत्रक की सूचना में लाई जाए। इसके उपरान्त ऐसी किसी भी सूचना/शिकायत पर कार्यवाही नहीं होगी।

4. The candidates MUST return the complete question book-let and the OMR Answer-Sheet to the Invigilator concerned before leaving the Examination Hall, failing which a case of use of unfair means/misbehaviour will be registered against him/her, in addition to lodging of an FIR with the police. Further the answer-sheet of such candidate will not be evaluated.

परीक्षा हॉल छोड़ने से पूर्व सभी अभ्यर्थीगण अपनी पूरी प्रश्न-पत्रिका व ओ० एम० आर० उत्तर-पत्र सम्बन्धित निरीक्षक को देकर ही जाए। अन्यथा उनके विरुद्ध अनफेयर मीन्स/दुरुप्यवहार का केस बनाया जाएगा और साथ ही उनके विरुद्ध पुलिस में एफ० आई० आर० भी लिखवाई जाएगी। ऐसे केस में उस अभ्यर्थी के उत्तर-पत्र की जाँच भी नहीं करवायी जाएगी।

5. The candidates MUST NOT do any rough work or writing in the OMR Answer-Sheet. Rough work, if any, may be done in the question book-let itself.

अभ्यर्थीगण ओ० एम० आर० उत्तर पत्र पर कोई रफ कार्य न करें। केवल प्रश्न-पत्रिका में ही रफ कार्य करें।

6. There will be negative marking. For every wrong answer $\frac{1}{4}$ mark will be deducted. In case you are not sure of answer or do not want to attempt any question, leave the space blank under the concerned Question No. in the OMR Answer-Sheet. Cutting, erasing, overwriting and more than one answer in the OMR Answer-Sheet will be treated as wrong answer.

नकारात्मक आंकन होगा। प्रत्येक गलत उत्तर के लिए $\frac{1}{4}$ (घौथई) अंक कम कर दिया जाएगा। यदि आप सही उत्तर के बारे में आश्वस्त नहीं हैं या किसी प्रश्न का उत्तर नहीं देना चाहते तो उत्तर-पत्र के सम्बन्धित खाने को खाली छोड़ दें। ओ० एम० आर० उत्तर-पत्र पर काट-पीट, मिटाना और एक से अधिक उत्तर गलत माना जाएगा।

7. Use only blue or black ball point pen in the OMR Answer-Sheet.

ओ० एम० आर० उत्तर-पत्र पर केवल नीले या काले पॉइन्ट पेन का ही प्रयोग करें।

[Handwritten signature]
11/9/12

[Handwritten signature]




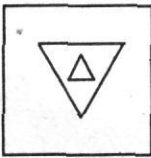
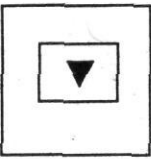
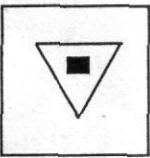




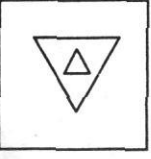
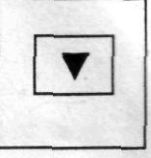
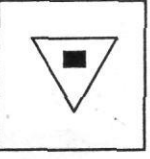
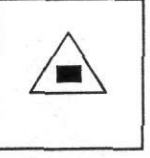
Question No.	Questions
1.	<p>Which animal figure is not adopted in the National Emblem of India ?</p> <p>(1) Lion (2) Bull (3) Elephant (4) Horse</p> <p>भारत के राष्ट्रीय चिह्न में किस पशु की आकृति को नहीं लिया गया है ?</p> <p>(1) शेर (2) बैल (3) हाथी (4) घोड़ा</p>
2.	<p>On June 1st, 2012 which Vikram Samvat is going on ?</p> <p>(1) 2068 (2) 2069 (3) 2070 (4) 2012</p> <p>जून 1, 2012 को कौन-सा विक्रम संवत् चल रहा है ?</p> <p>(1) 2068 (2) 2069 (3) 2070 (4) 2012</p>
3.	<p>Light travels from the Sun to the Earth approximately in</p> <p>(1) 8.3 minute (2) 24 hours (3) 364.4 days (4) One light year</p> <p>सूर्य से पृथ्वी तक प्रकाश लगभग में पहुँच जाता है।</p> <p>(1) 8.3 मिनट (2) 24 घंटे (3) 364.4 दिन (4) एक प्रकाश वर्ष</p>
4.	<p>What is the normal human body temperature ?</p> <p>(1) 36.9°C (2) 98.4°C (3) 100°C (4) 50°C</p> <p>सामान्य मानव शरीर तापमान क्या है ?</p> <p>(1) 36.9°C (2) 98.4°C (3) 100°C (4) 50°C</p>

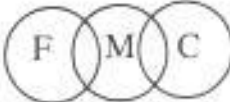

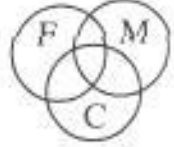

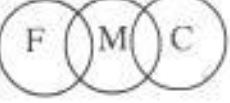



Question No.	Questions
5.	<p>Which state among the following has the least number of members in Vidhan Sabha ?</p> <p>(1) Sikkim (2) Goa (3) Mizoram (4) Manipur</p> <p>निम्न में किस राज्य की विधान सभा में सबसे कम सदस्य हैं ?</p> <p>(1) सिक्किम (2) गोवा (3) मिज़ोरम (4) मणिपुर</p>
6.	<p>Who was the first woman to become the Chief Minister of a State in India ?</p> <p>(1) Sarojini Naidu (2) Sucheta Kriplani (3) Vijai Lakshmi Pandit (4) Rajkumari Amrit Kaur</p> <p>भारत के किसी राज्य की मुख्य मन्त्री बनने वाली प्रथम महिला कौन थी ?</p> <p>(1) सरोजिनी नायडू (2) सुचेता कृपलानी (3) विजय लक्ष्मी पंडित (4) राजकुमारी अमृत कौर</p>
7.	<p>Raman Singh is the Chief Minister of</p> <p>(1) Chhattisgarh (2) Tripura (3) Jharkhand (4) Madhya Pradesh</p> <p>रमन सिंह के मुख्य मन्त्री हैं।</p> <p>(1) छत्तीसगढ़ (2) त्रिपुरा (3) झारखण्ड (4) मध्य प्रदेश</p>
8.	<p>What is the total number of nationalized banks in India ?</p> <p>(1) 21 (2) 20 (3) 14 (4) 6</p> <p>भारत में राष्ट्रीयकृत बैंकों की कुल संख्या कितनी है ?</p> <p>(1) 21 (2) 20 (3) 14 (4) 6</p>

Question No.	Questions
9.	<p>Which state among the following has the highest literacy rate ?</p> <p>(1) Goa (2) Maharashtra (3) Himachal Pradesh (4) Mizoram</p> <p>निम्न में से किस राज्य की साक्षरता दर सर्वाधिक है ?</p> <p>(1) गोवा (2) महाराष्ट्र (3) हिमाचल प्रदेश (4) मिज़ोरम</p>
10.	<p>Who did ransack Somnath temple in 1026 AD ?</p> <p>(1) Mohammad Bin Qasim (2) Mahmud of Ghazni (3) Mohammad Ghorī (4) Genghis Khan</p> <p>सन् 1026 में सोमनाथ मन्दिर को किसने नष्ट किया ?</p> <p>(1) मोहम्मद बिन कासिम (2) महमूद गज़नी (3) मोहम्मद गौरी (4) चंगेज़ खान</p>
11.	<p>Name the Prime Minister of Russia</p> <p>(1) Vladimir Putin (2) Leonid Tibilov (3) Valentin Topov (4) Dmitry Medvedev</p> <p>रुस के प्रधान मन्त्री का नाम बताएं।</p> <p>(1) व्लादीमीर पुतिन (2) लियोनिद तिबिलोव (3) वैलेन्टिन तोपोव (4) दमित्रि मेदवेदेव</p>
12.	<p>Choose the smallest country among the following in area</p> <p>(1) San Marino (2) Tuvalu (3) Nauru (4) Monaco</p> <p>निम्न में क्षेत्र में सबसे छोटे देश को चुनें।</p> <p>(1) सान मेरिनो (2) टुवालु (3) नोरु (4) मोनेको</p>

Question No.	Questions
13.	<p><i>Excepting China and India, which country has the biggest population in Asia ?</i></p> <p>(1) Japan (2) Bangladesh (3) Indonesia (4) Pakistan</p> <p>चीन व भारत को छोड़कर एशिया में किस देश की जनसंख्या सर्वाधिक है ?</p> <p>(1) जापान (2) बांग्लादेश (3) इन्डोनेशिया (4) पाकिस्तान</p>
14.	<p>Angkorwat temple complex is situated in</p> <p>(1) Indonesia (2) Cambodia (3) Thailand (4) Malaysia</p> <p>अंगकोरवाट मन्दिर समूह में स्थित है।</p> <p>(1) इन्डोनेशिया (2) कम्बोडिया (3) थाइलैण्ड (4) मलेशिया</p>
15.	<p>What is the capital of Qatar ?</p> <p>(1) Doha (2) Muscat (3) Kuwait (4) Manama</p> <p>कतर की राजधानी क्या है ?</p> <p>(1) दोहा (2) मस्कट (3) कुवैत (4) मनामा</p>
16.	<p>In a certain code, '786' means 'study very hard' '958' means 'hard work pays' and '645' means 'study and work'. Which is the code for 'very' ?</p> <p>(1) 5 (2) 6 (3) 7 (4) 8</p> <p>एक कूट में 786 का अर्थ है 'स्टडी वेरी हार्ड' 958 का अर्थ है 'हार्ड वर्क पेज़' तथा 645 का अर्थ है 'स्टडी एण्ड वर्क'। 'वेरी' के लिए क्या कोड है ?</p> <p>(1) 5 (2) 6 (3) 7 (4) 8</p>

Question No.	Questions
17.	<p>What % of a day is 2 hours ?</p> <p>(1) 8% (2) 12%</p> <p>(3) 4.16% (4) 8.33%</p> <p>दो घण्टे एक दिन का कितना प्रतिशत है ?</p> <p>(1) 8% (2) 12%</p> <p>(3) 4.16% (4) 8.33%</p>
18.	<p>Choose the group of letters different from others.</p> <p>(1) POCG (2) KLIZ</p> <p>(3) BUDX (4) FQMV</p> <p>वे अक्षर समूह चुनें जो अन्य से भिन्न है।</p> <p>(1) POCG (2) KLIZ</p> <p>(3) BUDX (4) FQMV</p>
19.	<p>Two tanks are of the same capacity. The dimensions of the first tank are 12 m × 8 m × 4m. The second tank is square with a depth of 6 m. Find the side of the second tank.</p> <p>(1) 4 m (2) 6 m</p> <p>(3) 8 m (4) 10 m</p> <p>दो तालाब समान क्षमता के हैं। प्रथम तालाब की विमा 12 मी × 8 मी × 4 मी है। दूसरा तालाब वर्गाकार है तथा 6 मी गहरा है। दूसरे तालाब की भुजा बताएं।</p> <p>(1) 4 मी (2) 6 मी</p> <p>(3) 8 मी (4) 10 मी</p>

Question No.	Questions
20.	<p>Which alternative does fill up the blank ?</p> <div style="display: flex; justify-content: space-around; align-items: center; margin-bottom: 20px;"> <div style="border: 1px solid black; width: 40px; height: 40px; display: flex; align-items: center; justify-content: center;"></div> <div style="border: 1px solid black; width: 40px; height: 40px; display: flex; align-items: center; justify-content: center;"></div> <div style="border: 1px solid black; width: 40px; height: 40px; display: flex; align-items: center; justify-content: center;"></div> <div style="border: 1px solid black; width: 40px; height: 40px;"></div> </div> <div style="display: flex; justify-content: space-between;"> <div style="width: 45%;"> <p>(1) </p> <p>(3) </p> </div> <div style="width: 45%;"> <p>(2) </p> <p>(4) </p> </div> </div> <p>कौन-सा विकल्प रिक्त स्थान को भरता है ?</p> <div style="display: flex; justify-content: space-around; align-items: center; margin-bottom: 20px;"> <div style="border: 1px solid black; width: 40px; height: 40px; display: flex; align-items: center; justify-content: center;"></div> <div style="border: 1px solid black; width: 40px; height: 40px; display: flex; align-items: center; justify-content: center;"></div> <div style="border: 1px solid black; width: 40px; height: 40px; display: flex; align-items: center; justify-content: center;"></div> <div style="border: 1px solid black; width: 40px; height: 40px;"></div> </div> <div style="display: flex; justify-content: space-between;"> <div style="width: 45%;"> <p>(1) </p> <p>(3) </p> </div> <div style="width: 45%;"> <p>(2) </p> <p>(4) </p> </div> </div>

Question No.	Questions
21.	<p>A hawker from a point walks 7 km Eastward to turn left and walks 6 km. From there he moves Southward 7 km to turn right and stops after walking 7 km. How far and in which direction is he now ?</p> <p>(1) 8 km, East (2) 13 km, North (3) 1 km, West (4) 1 km, South</p> <p>एक रेहड़ीवाला एक स्थान से 7 कि.मी. पूर्व की ओर जा कर बाएं मुड़ जाता है और 6 कि.मी. चलता है। वहाँ से दक्षिण की ओर 7 कि.मी. चलता है तथा दाएं मुड़ कर 7 कि.मी. बाद रुक जाता है। वह अब प्रारम्भिक स्थान से कितनी दूर एवं किस दिशा में है ?</p> <p>(1) 8 कि.मी. पूर्व (2) 13 कि.मी. उत्तर (3) 1 कि.मी. पश्चिम (4) 1 कि.मी. दक्षिण</p>
22.	<p>Which diagram represents ? Father (F), Mother (M), Child (C)</p> <p>(1)  (2) </p> <p>(3)  (4) </p> <p>कौन-सा चित्र निरूपण करता है ? पिता (F), माता (M), बालक (C)</p> <p>(1)  (2) </p> <p>(3)  (4) </p>

Question No.	Questions
23.	<p>Choose the odd one</p> <p>(1) Geometry (2) Algebra</p> <p>(3) Arithmetic (4) Mathematics</p> <p>वेमल चुने</p> <p>(1) ज्यामिति (2) बीजगणित</p> <p>(3) अंकगणित (4) गणित</p>
24.	<p>What is equal to</p> $\frac{0.9 \times 0.01 \times 0.03}{0.27} = ?$ <p>(1) 0.01 (2) 0.001 (3) 0.10 (4) 0.0001</p> <p>_____ के बराबर क्या होगा</p> $\frac{0.9 \times 0.01 \times 0.03}{0.27} = ?$ <p>(1) 0.01 (2) 0.001 (3) 0.10 (4) 0.0001</p>
25.	<p>Find one number from the given alternatives which can fill both question marked spaces :</p> $\frac{\sqrt{625}}{?} = \frac{?}{16}$ <p>(1) 5 (2) 4 (3) 256 (4) 20</p> <p>दिए गए विकल्पों में से ऐसी संख्या चुनें जो दोनों प्रश्न चिह्नित स्थानों को भर सके :</p> $\frac{\sqrt{625}}{?} = \frac{?}{16}$ <p>(1) 5 (2) 4 (3) 256 (4) 20</p>

Question No.	Questions
26.	<p>Simplify the following.</p> $15 - 11 \times 14 + 7 - (-7) = ?$ <p>(1) 44 (2) 14 (3) 0 (4) 15</p> <p>निम्न को सरल करें।</p> $15 - 11 \times 14 + 7 - (-7) = ?$ <p>(1) 44 (2) 14 (3) 0 (4) 15</p>
27.	<p>Complete the series.</p> <p>4, 16, 21, 5, 20, 25, 6, 24 ———.</p> <p>(1) 29 (2) 30 (3) 18 (4) 7</p> <p>शृंखला को पूरा करें।</p> <p>4, 16, 21, 5, 20, 25, 6, 24 ———.</p> <p>(1) 29 (2) 30 (3) 18 (4) 7</p>
28.	<p>Complete the analogy.</p> <p>Tractor : Tractor :: Horse : ?</p> <p>(1) Stable (2) Saddle (3) Cart (4) Engine</p> <p>सादृश्य को पूरा करें :</p> <p>ट्रैक्टर : ट्रैक्टर :: घोड़ा : ?</p> <p>(1) अस्तबल (2) काठी (3) गाड़ी (4) ईजन</p>

Question No.	Questions
29.	<p>Choose the analogous to Butter : Milk</p> <p>(1) Pencil : Lead (2) Class : Student (3) Jaggery : Sugarcane (4) Author : Book</p> <p>सदरुश चुरने डकखन ः दूध</p> <p>(1) डेनसल : सलकक (2) ककषल : वलदुधरुथल (3) गुडुडु : गनुनल (4) लेखक : डुसुकक</p>
30.	<p>A room is to be painted completely from inside at the rate of Rs. 20 per square feet including door and windows. Its dimensions are 15 feet in length, 12 feet in width and 11 feet in height. What will be the total cost of painting ?</p> <p>(1) Rs. 11880 (2) Rs. 15480 (3) Rs. 19080 (4) Rs. 27360</p> <p>एक कडरे की दरवलजे तथल खलडुकलरुडु सलहत अनुदर से डुरी तरह रंग करवलनल है कलसकी दर 20 रु. डुरतल वरुग डुडुत है। कडरल 15 डुडुत लडुडुडु, 12 डुडुत डुडुडुडु तथल 11 डुडुत कुडुडुडुडु कल है। रंग करवलने डुडु कुल कलतनल खरुडु आडुगल ?</p> <p>(1) 11880 रु. (2) 15480 रु. (3) 19080 रु. (4) 27360 रु.</p>
31.	<p>Some set rules and regulations while working on internet is called :</p> <p>(1) Protocol (2) Internet (3) Intranet (4) WWW</p> <p>Internet डुर कलडु करने के वखुत नलडुडुडु और वलनलडुडुडु के सेड (Set) कु कडुल कलल कलतल है :</p> <p>(1) Protocol (2) Internet (3) Intranet (4) WWW</p>

Question No.	Questions
32.	<p><i>Video-conferencing is used for :</i></p> <p>(1) talking to each other (2) communication purpose (3) live conversation (4) none</p> <p>विडियो कॉन्फ्रेंसिंग का उपयोग किसलिए किया जाता है :</p> <p>(1) आपस में बात करने के लिए (2) संचारण के लिए (3) सजीव बातचीत के लिए (4) उपरोक्त में से कोई नहीं</p>
33.	<p>VDU is a</p> <p>(1) Input unit (2) Output unit (3) Processing unit (4) Storage unit</p> <p>VDU किस प्रकार की Device है :</p> <p>(1) इनपुट इकाई (2) आउटपुट इकाई (3) प्रोसेसिंग इकाई (4) स्टोरेज इकाई</p>
34.	<p>What does optic fibre use to transmit data :</p> <p>(1) vibrations (2) sound (3) electric current (4) light</p> <p>Optic Fibre में डेटा संचारण के लिए किसका प्रयोग होता है :</p> <p>(1) कंपन (2) ध्वनि (3) विद्युत धारा (4) प्रकाश</p>
35.	<p>What is Binary equivalent of 23 :</p> <p>(1) 1010 (2) 1101 (3) 10111 (4) 10101</p> <p>संख्या 23 का बाइनरी equivalent क्या है :</p> <p>(1) 1010 (2) 1101 (3) 10111 (4) 10101</p>

Question No.	Questions
39.	<p>Softwares such as explorer and firefox are referred to as</p> <p>(1) System Software (2) Utility Software</p> <p>(3) Browsers (4) Internet tools</p> <p>सॉफ्टवेयर जैसे कि <i>explorer</i> एवं <i>firefox</i> क्या कहलाते हैं :</p> <p>(1) सिस्टम सॉफ्टवेयर (2) युटिलिटी सॉफ्टवेयर</p> <p>(3) ब्राउज़र्स (4) इन्टरनेट टूल्स</p>
40.	<p>The time elapsed between the initiation of a memory operation and the completion of operation is known as :</p> <p>(1) memory cycle time (2) memory access time</p> <p>(3) transfer time (4) skip time</p> <p>किसी memory operation की शुरूआत से लेकर अंत होने के बीच का समय क्या कहलाता है :</p> <p>(1) memory cycle time (2) memory access time</p> <p>(3) transfer time (4) skip time</p>
41.	<p>E-mail address separates the username from the ISP using the symbol :</p> <p>(1) & (2) @</p> <p>(3) % (4) *</p> <p>ई-मेल पता आईएसपी से उपयोगकर्ता के नाम को के द्वारा अलग करता है :</p> <p>(1) & (2) @</p> <p>(3) % (4) *</p>
42.	<p>Before a disk can be used to store data, it must be :</p> <p>(1) formatted (2) reformatted</p> <p>(3) addressed (4) none of the above</p> <p>डिस्क पर डेटा स्टोर करने से पहले, डिस्क को करना चाहिए :</p> <p>(1) फॉर्मेट (2) रिफॉर्मेट</p> <p>(3) एड्रेस (4) उपरोक्त में से कोई भी नहीं</p>

Question No.	Questions
43.	<p>When you put on the computer in morning it is called :</p> <p>(1) hot boot (2) cold boot (3) warm boot (4) none of these</p> <p>जब कम्प्यूटर को सुबह on किया जाता है, तो यह कहलाता है :</p> <p>(1) हॉट बूट (2) कोल्ड बूट (3) वार्म बूट (4) उपरोक्त में से कोई भी नहीं</p>
44.	<p>Exploring the world wide web is called :</p> <p>(1) Net surfing (2) Internet explorer (3) Net navigation (4) Netscape Navigator</p> <p>वर्ल्ड वाइड वेब को explore करने को क्या कहा जाता है :</p> <p>(1) Net surfing (2) Internet explorer (3) Net navigation (4) Netscape Navigator</p>
45.	<p>The first part of a complete URL is the needed to access the web resource :</p> <p>(1) address (2) name (3) location (4) protocol</p> <p>संपूर्ण URL का पहला भाग वह होता है, जो वेब संसाधन का उपयोग करने के लिए चाहिए :</p> <p>(1) पता (2) नाम (3) स्थान (4) प्रोटोकॉल</p>
46.	<p>To move the cursor page to page of document</p> <p>(1) Ctrl + PgDn (2) Ctrl + PgUp (3) Both of above (4) None of above</p> <p>दस्तावेज में एक पेज से दूसरे पेज पर cursor को ले जाने के लिये निम्न में से कौन-सा प्रयोग होता है :</p> <p>(1) Ctrl + PgDn (2) Ctrl + PgUp (3) ऊपर वाले दोनों (4) ऊपर में से कोई नहीं</p>

Question No.	Questions
47.	<p><i>Which of the following is used to create newspaper style columns ?</i></p> <p>(1) Format Tabs (2) Table Insert Table (3) Insert Textbox (4) Format Columns</p> <p>निम्न में से अखबार स्टाइल के column बनाने के लिए कौन-सा प्रयोग में लाया जाता है ?</p> <p>(1) Format Tabs (2) Table Insert Table (3) Insert Textbox (4) Format Columns</p>
48.	<p>To insert a drop cap in one of the paragraph you should access</p> <p>(1) Insert Menu (2) Format (3) Tools (4) None of above</p> <p>किसी पैराग्राफ में drop cap डालने के लिये निम्न में से कौन-सा प्रयोग करना चाहिये ?</p> <p>(1) Insert Menu (2) Format (3) Tools (4) उपरोक्त में से कोई नहीं</p>
49.	<p>What is the shortcut key to Close Active Document in MS word ?</p> <p>(1) Ctrl + F4 (2) Shift + F4 (3) Ctrl + Shift + F4 (4) None of above</p> <p>MS Word में एक्टिव दस्तावेज़ को बंद करने के लिये Shortcut चाबी कौन-सी होती है ?</p> <p>(1) Ctrl + F4 (2) Shift + F4 (3) Ctrl + Shift + F4 (4) उपरोक्त में से कोई नहीं</p>
50.	<p>What is the shortcut key to "Insert Hyperlink" in a document ?</p> <p>(1) Ctrl + H (2) Ctrl + L (3) Ctrl + K (4) None of above</p> <p>एक दस्तावेज़ में "Insert Hyperlink" के लिये Shortcut चाबी कौन-सी होती है ?</p> <p>(1) Ctrl + H (2) Ctrl + L (3) Ctrl + K (4) उपरोक्त में से कोई नहीं</p>

Question No.	Questions
51.	<p>A feature of MS Word that saves the document automatically after certain interval is available on</p> <p>(1) Save tab on Options dialog box (2) Save As dialog box (3) Both of above (4) None of above</p> <p>दस्तावेज को निश्चित समय के बाद स्वयं save करने वाला MS Word का feature निम्न में से किस पर मिलता है।</p> <p>(1) Options डायलाग बॉक्स पर Save tab से (2) Save as डायलाग बाक्स (3) ऊपर वाले दोनों (4) ऊपर में से कोई नहीं</p>
52.	<p>A master document contains, each of which contains a pointer to a file on a disk ?</p> <p>(1) placeholders (2) subdocuments (3) book marks (4) references</p> <p>एक master दस्तावेज में होते हैं, जिसमें प्रत्येक डिस्क पर फाइल के लिये pointer होता है।</p> <p>(1) placeholders (2) subdocuments (3) book marks (4) references</p>
53.	<p>Which would you choose to move selected text from one place to another ?</p> <p>(1) Move and Paste (2) Copy and Paste (3) Cut and Paste (4) Delete and Paste</p> <p>निम्न में से selected text को एक जगह से दूसरी जगह move करने के लिए कौन-सा चुनेंगे।</p> <p>(1) Move and Paste (2) Copy and Paste (3) Cut and Paste (4) Delete and Paste</p>

Question No.	Questions
54.	<p>Which enables us to send the same letter to different persons ?</p> <p>(1) macros (2) template (3) mailmerge (4) none</p> <p>निम्न में से एक ही पत्र अलग-अलग लोगों को भेजने के लिये कौन-सा सक्षम बनाता है ?</p> <p>(1) मैक्रोज (2) टेम्पलेट (3) मेलमर्ज (4) कोई भी नहीं</p>
55.	<p>Which key on the keyboard can be used to view slide show ?</p> <p>(1) F1 (2) F2 (3) F5 (4) F10</p> <p>कीबोर्ड से किस key का प्रयोग slide show देखने के लिये किया जा सकता है ?</p> <p>(1) F1 (2) F2 (3) F5 (4) F10</p>
56.	<p>To open the existing presentation, press</p> <p>(1) Ctrl + L (2) Ctrl + N (3) Ctrl + A (4) Ctrl + O</p> <p>Existing प्रेजेंटेशन को खोलने के लिये दबायें।</p> <p>(1) Ctrl + L (2) Ctrl + N (3) Ctrl + A (4) Ctrl + O</p>
57.	<p>After choosing a predefined template, which option has to be chosen to change the background color ?</p> <p>(1) Design Template (2) Color Scheme (3) Animation Scheme (4) Color Effects</p> <p>एक predefined टेम्पलेट को चुनने के बाद, निम्न में से कौन-सा विकल्प background color को बदलने के लिये प्रयोग होता है ?</p> <p>(1) Design Template (2) Color Scheme (3) Animation Scheme (4) Color Effects</p>

Question No.	Questions
58.	<p>How can the slide show be repeated continuously ?</p> <p>(1) loop continuously until 'Esc'</p> <p>(2) repeat continuously</p> <p>(3) loop more</p> <p>(4) none</p> <p>Slide show को निम्न में से किस द्वारा लगातार repeat किया जा सकता है ?</p> <p>(1) loop continuously until 'Esc'</p> <p>(2) repeat continuously</p> <p>(3) loop more</p> <p>(4) उपरोक्त में से कोई नहीं</p>
59.	<p>In PowerPoint, when the mouse pointer appears as this it indicates that Draw Table feature is on</p> <p>(1) Solid plus sign</p> <p>(2) Solid arrow</p> <p>(3) I-beam</p> <p>(4) Pencil</p> <p>PowerPoint में mouse pointer निम्न में से दिखाई देता है जो कि यह बताता है कि Draw Table फीचर on है।</p> <p>(1) Solid plus sign</p> <p>(2) Solid arrow</p> <p>(3) I-beam</p> <p>(4) Pencil</p>

Question No.	Questions
60.	<p>What do you do to start the slide show ?</p> <p>(1) Click on Go (2) Turn on transition (3) Click on the slide show icon (4) All of the above</p> <p>Slide show को शुरू करने के लिये आप क्या करते हैं ?</p> <p>(1) Go को Click करें (2) Transition को turn on करें (3) Slide show को क्लिक करें (4) उपरोक्त वाले सभी</p>
61.	<p>To print the PowerPoint presentation, press</p> <p>(1) Ctrl + T (2) Ctrl + E (3) Ctrl + S (4) Ctrl + P</p> <p>PowerPoint प्रेजेंटेशन को प्रिंट करने के लिये निम्न में से कौन-सी दबाये ?</p> <p>(1) Ctrl + T (2) Ctrl + E (3) Ctrl + S (4) Ctrl + P</p>
62.	<p>Which key do you press to check spelling ?</p> <p>(1) F3 (2) F5 (3) F7 (4) F9</p> <p>Spelling चेक करने के लिये निम्न में से कौन-सी चाबी दवाते हो ?</p> <p>(1) F3 (2) F5 (3) F7 (4) F9</p>

Question No.	Questions
63.	<p>The Paste Special command lets you copy and paste :</p> <ol style="list-style-type: none"> (1) Multiply the selection by a copied value (2) Cell comments (3) Formatting options (4) The resulting values of a formula instead of the actual formula <p>Paste Special कमांड निम्न में से किसे Copy एवं Paste करती है</p> <ol style="list-style-type: none"> (1) एक कापी की हुई value से selection को गुणा करता है (2) Cell comments (3) Formatting विकल्प (4) वास्तविक फार्मूले की बजाय फार्मूले से मिली values
64.	<p>To delete an embedded object, first</p> <ol style="list-style-type: none"> (1) Double click the object (2) Select the object by clicking it (3) Press the Shift + Delete keys (4) Select it and then press the delete key <p>Embedded आब्जेक्ट को delete करने के लिये पहले आप क्या करते हैं</p> <ol style="list-style-type: none"> (1) Object को डबल क्लिक करना (2) Object को क्लिक करके सेलेक्ट करना (3) Shift + Delete चावियों को दबायें (4) पहले इसे सेलेक्ट करें और फिर delete चाबी दबायें

Question No.	Questions
65.	<p>Tab scrolling button</p> <ol style="list-style-type: none"> (1) Allows you to view a different worksheet (2) Allows you to view additional worksheet rows down (3) Allows you to view additional worksheet columns to the right (4) Allows you to view additional sheets tabs <p>टेब स्करोलिंग बटन निम्न में से क्या करता है</p> <ol style="list-style-type: none"> (1) एक अलग वर्कशीट को देखने के लिये सक्षम बनाता है (2) additional वर्कशीट rows down को देखने के लिये सक्षम बनाता है (3) additional वर्कशीट columns to the right को देखने के लिये सक्षम बनाता है (4) Additional sheets tabs को देखने के लिये सक्षम बनाता है
66.	<p>The chart wizard term data series refers to :</p> <ol style="list-style-type: none"> (1) A chart legend (2) A collection of chart data makers (3) A data label (4) A set of values you plot in a chart <p>Chart विजार्ड term डाटा सिरिज़ का निम्न में से किससे अभिप्राय है</p> <ol style="list-style-type: none"> (1) एक चार्ट legend (2) Chart data makers का संग्रह (3) एक डाटा लेबल (4) Values का सेट जो आप चार्ट में plot करते हैं

Question No.	Questions
67.	<p>A typical worksheet has number of columns</p> <p>(1) 128 (2) 256 (3) 512 (4) 1024</p> <p>एक typical worksheet में column होते हैं।</p> <p>(1) 128 (2) 256 (3) 512 (4) 1024</p>
68.	<p>What symbol is used before a number to make a label ?</p> <p>(1) "(quote) (2) =(equal) (3) _(underscore) (4) '(apostrophe)</p> <p>निम्न में से कौन सा symbol एक number के आगे लगाया जाता है जिससे वो label बन जाये।</p> <p>(1) "(quote) (2) =(equal) (3) _(underscore) (4) '(apostrophe)</p>

Question No.	Questions
69.	<p>Which elements of worksheet can be protected from accidental modification</p> <p>(1) Contents (2) Objects</p> <p>(3) Scenarios (4) All of above</p> <p>निम्न में से worksheet के कौन-से तत्व आकस्मिक modification से protect किये जा सकते हैं :</p> <p>(1) Contents (2) Objects</p> <p>(3) Scenarios (4) ऊपर वाले सभी</p>
70.	<p>Data can be arranged in a worksheet in a easy to understand manner using</p> <p>(1) auto formatting (2) applying styles</p> <p>(3) changing fonts (4) all of above</p> <p>आँकड़ों को worksheet में सरल तरीके से निम्न में से किस द्वारा व्यवस्थित किया जा सकता है</p> <p>(1) auto formatting (2) applying styles</p> <p>(3) changing fonts (4) ऊपर वाले सभी</p>
71.	<p>Select the correct form of the verb from the options to fill in the blank in the following sentence</p> <p>Did you think, you me somewhere before</p> <p>(1) had seen (2) have seen</p> <p>(3) were seeing (4) saw</p>

Question No.	Questions
72.	<p>Select the correct option to fit in the blanks in the following para.</p> <p>The mountaineer was a bit as he was cutting steps to reach the top of the hill. He was still moving up</p> <p>(1) tired, continuously, carelessly (2) energetic, continuously, aimlessly (3) tired, continuously, carefully (4) tried, continuously, carefully</p>
73.	<p>Select the correct option to fill in the blank in the following sentence</p> <p>Mary enjoys video games</p> <p>(1) in playing (2) at playing (3) for playing (4) playing</p>
74.	<p>Read the following passage and select the statement best supported by it.</p> <p>Road accidents can be prevented if the quality of roads is improved and the drivers are imparted training in safety rules which they must follow. It is also equally necessary that illumination on the roads is adequate so as to prevent accidents during nights.</p> <p>Statements :</p> <p>(1) Road accidents are man-made and are always avoidable. (2) Road accidents are solely due to inadequate illumination. (3) Drivers lack of knowledge of safety rules is the only cause of road accidents. (4) Road accidents result in large number of deaths.</p>

Question No.	Questions
75.	<p>Read the following passage and select the correct answer</p> <p>Leg pain or numbness with or without back pain is a common reason for individuals visiting various clinics. Usually there is no history of injury to the leg and lower back. Leg pain often starts in the lower back where the sciatic nerve originates. This is similar to power going off in our houses when the problem originates at the electric pole or elsewhere.</p> <ol style="list-style-type: none">(1) Leg pain starts from the place of origin of sciatic nerve(2) Injury is the only cause of leg pain(3) Leg pain is not akin to power failure in the houses which occurs at the electric pole(4) There is no need for diagnosis of leg pain.
76.	<p>One of the following sentences is correct, while the rest three have some error(s). Select the correct sentence.</p> <ol style="list-style-type: none">(1) Walk carefully lest you fall down(2) Walk carefully lest you may fall down(3) Walk carefully lest you are fallen down(4) Walk carefully lest you should fall down
77.	<p>The following sentence has an error in one of its part. The number assigned to the part is the answer. Ignore the errors of punctuation, if any. Mark the correct answer.</p> <p>As the Prime Minister of India, Jawaharlal Nehru was known by all types of people in the World</p> <ol style="list-style-type: none">(1) As the Prime Minister of India(2) Jawaharlal Nehru(3) Was known by all types(4) <i>of people in the World</i>

Question No.	Questions
78.	Select the correct option reflecting correct meaning of the word "Baffle". (1) Fear (2) Puzzle (3) Clarify (4) Enlighten
79.	Select the option which is a synonym of the word "Torment". (1) Comfort (2) Respect (3) Torture (4) None of the above
80.	Select the option having meaning similar to the word "Abandon". (1) Renounce (2) Retain (3) Maintain (4) Capture
81.	Select the antonym of the word "Replaceable" from the options given below (1) Irreplacable (2) In replaceable (3) Irreplaceable (4) Unreplaceable

Question No.	Questions
82.	<p>Select the correct antonym of the word "Measurable" from the options given below</p> <ul style="list-style-type: none">(1) Inmeasurable(2) Immeasurable(3) Unmeasurable(4) None of the above
83.	<p>Select the option which is antonym of the word "Encryption".</p> <ul style="list-style-type: none">(1) Uncryption(2) Description(3) De-encryption(4) Decryption
84.	<p>Select the option with correct spelling of the word</p> <ul style="list-style-type: none">(1) Beleaguer(2) Beleagur(3) Beleageur(4) Beleagar

Question No.	Questions
85.	<p>Select the option with correct spelling of the word</p> <p>(1) Chauffar (2) Chauffer (3) Chouffer (4) Chauffeur</p>
86.	<p>सही अर्थ वाला विकल्प चुनिए। परिचारिका -</p> <p>(1) कार्यकर्ता (2) स्त्री (3) सुन्दरी (4) दासी</p>
87.	<p>निम्नलिखित शब्दों में से कौन-सा शब्द अशुद्ध है ?</p> <p>(1) हिन्दु (2) निरीक्षण (3) निश्चित (4) पड़ोसिन</p>
88.	<p>निम्नलिखित शब्दों में से कौन-सा "अन्धा" शब्द का पर्यायवाची नहीं है ?</p> <p>(1) नेत्रहीन (2) दृष्टगोचर (3) चक्षुर्विहीन (4) प्रज्ञाचक्षु</p>
89.	<p>निम्नलिखित शब्दों में से "सार्थक" शब्द के विपरीतार्थक शब्द का चयन कीजिए।</p> <p>(1) अनेकर्थक (2) निराकार (3) निरर्थक (4) निरक्षर</p>

Question No.	Questions
90.	<p>सही अर्थ वाला विकल्प चुनिए।</p> <p>दस्यु -</p> <p>(1) दोस्त (2) दुश्मन</p> <p>(3) चोर (4) विद्वान</p>
91.	<p>निम्नलिखित शब्दों में से शुद्ध शब्द चुनिए।</p> <p>(1) अमवदस्या (2) अमवश्या</p> <p>(3) अमावश्या (4) अमावस्या</p>
92.	<p>निम्नलिखित शब्द समूहों में से कौन-सा समूह पूर्णरूप से "उपेक्षा" शब्द का पर्यायवाची है ?</p> <p>(1) अवहेलना, तिरस्कार, उल्लंघन</p> <p>(2) तिरस्कार, लापरवाही, श्लाघा</p> <p>(3) उल्लंघन, उपयुक्त, विरक्ति</p> <p>(4) लापरवाही, अवहेलना, विपरीत</p>
93.	<p>निम्नलिखित शब्दों में से "वादी" शब्द के विपरीतार्थक शब्द का चयन कीजिए।</p> <p>(1) प्रतियोगी</p> <p>(2) प्रतिवादी</p> <p>(3) सहयोगी</p> <p>(4) साम्यवादी</p>
94.	<p>नीचे दिए गए वाक्य में रिक्त स्थान भरने के लिए सही विकल्प चुनिए।</p> <p>..... का नाम जीवन है और स्थिरता का मृत्यु।</p> <p>(1) ज्ञान (2) निरति</p> <p>(3) कृति (4) शक्ति</p>

Question No.	Questions
95.	<p>निम्नलिखित वाक्य में रिक्त स्थान भरने हेतु सही विकल्प का चयन कीजिए। बन्दूक एक उपयोगी है।</p> <p>(1) अस्त्र (2) शस्त्र (3) औजार (4) उपकरण</p>
96.	<p>नीचे दिए गए विकल्पों में से सही वाक्य छँटिए।</p> <p>(1) वह सब भले लोग हैं। (2) मनुष्य ईश्वर की अदभुत कृति है। (3) भीड़ में चार जयपुर के व्यक्ति थे। (4) वे सारे गुप्त रहस्य प्रकट कर देगा।</p>
97.	<p>नीचे लिखे वाक्य को चार पदों में बाँटकर क्रमानुसार लिखा गया है। इनमें से एक पद, वाक्य के संदर्भ में, त्रुटियुक्त है। त्रुटियुक्त पद को छँटिए।</p> <p>मेरे पति कामकार्य के सिलसिले में बहुत व्यस्त रहते हैं।</p> <p>(1) मेरे पति (2) कामकार्य के सिलसिले में (3) बहुत व्यस्त रहते हैं (4) कोई त्रुटि नहीं</p>
98.	<p>निम्नलिखित गद्यांश को पढ़कर इसके नीचे दिए गए उत्तरों में से सही उत्तर को छँटिए।</p> <p>मेरी आँखों में एक मृतक की परछाई तैर रही है। मेरी कनपटी में एक खुंखार किसी की जान लेने को आतुर है। वह कल्ले आम कर देने की अंतिम इच्छा रखता है। समाज में आतंक फैलाने को वह अपना धर्म मानता है। उपर्युक्त गद्यांश में किस भाव की अभिव्यक्ति है।</p> <p>(1) हिंसा (2) बेवसी (3) उदासी (4) हताशा</p>

Question No.	Questions
99.	सही अर्थ वाला विकल्प चुनिए। आलय - (1) पाठशाला (2) घर (3) दुकान (4) विश्वविद्यालय
100.	नीचे एक शब्द की वर्तनी के अनेक रूप प्रस्तुत हैं। शुद्ध वर्तनी का चयन कीजिए। (1) कवित्री (2) कवयित्री (3) कवियत्री (4) कवियित्री

ANSWER KEY CLERK-CUM-JR. DATA ENTRY OPERATOR (CJDEOT-2012/SET-Z)

CODE-A

EXAMINATION HELD ON 02.09.2012 (EVENING SESSION)

<u>1 - 3</u>	<u>26 - 4</u>	<u>51 - 4</u>	<u>76 ~ 1</u>
<u>2 - 3</u>	<u>27 - 3</u>	<u>52 - 4</u>	<u>77 ~ 2</u>
<u>3 - 3</u>	<u>28 - 1</u>	<u>53 - 4</u>	<u>78 ~ 3</u>
<u>4 - 4</u>	<u>29 - 3</u>	<u>54 - 2</u>	<u>79 ~ 4</u>
<u>5 - 4</u>	<u>30 - 3</u>	<u>55 - 4</u>	<u>80 ~ 1</u>
<u>6 - 4</u>	<u>31 - 3</u>	<u>56 - 1</u>	<u>81 ~ 3</u>
<u>7 - 2</u>	<u>32 - 2</u>	<u>57 - 2</u>	<u>82 ~ 1</u>
<u>8 - 2</u>	<u>33 - 1</u>	<u>58 - 4</u>	<u>83 ~ 4</u>
<u>9 - 4</u>	<u>34 - 1</u>	<u>59 - 2</u>	<u>84 ~ 3</u>
<u>10 - 4</u>	<u>35 - 2</u>	<u>60 - 2</u>	<u>85 ~ 2</u>
<u>11 - 3</u>	<u>36 - 2</u>	<u>61 - 3</u>	<u>86 ~ 1</u>
<u>12 - 3</u>	<u>37 - 3</u>	<u>62 - 3</u>	<u>87 ~ 2</u>
<u>13 - 2</u>	<u>38 - 3</u>	<u>63 - 2</u>	<u>88 ~ 3</u>
<u>14 - 3</u>	<u>39 - 1</u>	<u>64 - 4</u>	<u>89 ~ 4</u>
<u>15 - 3</u>	<u>40 - 4</u>	<u>65 - 2</u>	<u>90 ~ 2</u>
<u>16 - 1</u>	<u>41 - 3</u>	<u>66 - 4</u>	<u>91 ~ 3</u>
<u>17 - 2</u>	<u>42 - 2</u>	<u>67 - 1</u>	<u>92 ~ 4</u>
<u>18 - 1</u>	<u>43 - 3</u>	<u>68 - 2</u>	<u>93 ~ 1</u>
<u>19 - 2</u>	<u>44 - 2</u>	<u>69 - 3</u>	<u>94 ~ 3</u>
<u>20 - 3</u>	<u>45 - 2</u>	<u>70 - 4</u>	<u>95 ~ 2</u>
<u>21 - 2</u>	<u>46 - 1</u>	<u>71 - 2</u>	<u>96 ~ 1</u>
<u>22 - 3</u>	<u>47 - 4</u>	<u>72 - 3</u>	<u>97 ~ 1</u>
<u>23 - 2</u>	<u>48 - 1</u>	<u>73 - 4</u>	<u>98 ~ 2</u>
<u>24 - 4</u>	<u>49 - 1</u>	<u>74 - 2</u>	<u>99 ~ 4</u>
<u>25 - 2</u>	<u>50 - 3</u>	<u>75 - 2</u>	<u>100 ~ 1</u>

[Signature]
11/9/12

A

Sr. No. 76905

Time : 90 Minutes]

Total Questions : 100

[Max. Marks : 100

Candidate's Name _____ Date of Birth _____

Father's Name _____ Mother's Name _____

Roll No. (In figures) _____ (In words) _____

Date of Exam. _____

(Signature of the Candidate)

(Signature of the Invigilator)

Candidates MUST read the following instructions carefully before starting the question paper.

प्रश्न-पत्र हल करने से पूर्व, अभ्यर्थीगण निम्नलिखित अनुदेशों को ध्यानपूर्वक पढ़ लें।

1. **All questions are compulsory. All questions carry equal mark.**

सभी प्रश्न अनिवार्य हैं। सभी प्रश्नों के अंक समान हैं।

2. **Before answering the questions, the candidates should ensure that they have been supplied complete question booklets. Complaints, if any, regarding misprinting etc. will not be entertained 15 minutes after the start of test.**

प्रश्न-पत्र हल करने से पूर्व, अभ्यर्थीगण यह सुनिश्चित कर लें, कि उन्हें पूरी प्रश्न-पत्रिका मिली है तथा उसमें छपाई संबंधी आदि कोई त्रुटि नहीं है। परीक्षा शुरू होने के 15 मिनट बाद इस संदर्भ में कोई शिकायत नहीं सुनी जाएगी।

3. **In case there is any discrepancy in any question(s) in the Question Booklet, the same may be brought to the notice of the Controller of Examinations in writing within two hours after the test is over. No such complaint(s) will be entertained thereafter.**

यदि प्रश्न-पत्र में किसी प्रश्न से सम्बन्धित कोई त्रुटि हो तो उस बारे में लिखित सूचना/शिकायत परीक्षा समाप्त होने के दो घण्टे के अन्दर-अन्दर परीक्षा नियंत्रक की सूचना में लाई जाए। इसके उपरान्त ऐसी किसी भी सूचना/शिकायत पर कार्यवाही नहीं होगी।

4. **The candidates must return the complete question booklet and the OMR Answer-Sheet to the Invigilator concerned before leaving the Examination Hall, failing which a case of use of unfair-means/misbehaviour will be registered against him/her, in addition to lodging of an FIR with the police. Further the answer-sheet of such a candidate will not be evaluated.**

परीक्षा हॉल छोड़ने से पूर्व सभी अभ्यर्थीगण अपनी पूरी प्रश्न-पत्रिका व ओ० एम० आर० उत्तर-पत्र सम्बन्धित निरीक्षक को देकर ही जाएँ अन्यथा उनके विरुद्ध अनफेयर मीन्स/दुर्व्यवहार का केस बनाया जाएगा और साथ ही उनके विरुद्ध पुलिस में एफ० आई० आर० भी लिखवाई जाएगी। ऐसे केस में उस अभ्यर्थी के उत्तर-पत्र की जाँच भी नहीं करवायी जाएगी।

5. **The candidates must not do any rough work or writing in the OMR Answer-Sheet. Rough work, if any, may be done in the question booklet itself.**

अभ्यर्थीगण ओ० एम० आर० उत्तर-पत्र पर कोई रफ कार्य न करें। केवल प्रश्न-पत्रिका में ही रफ कार्य करें।

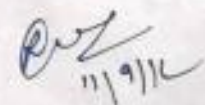
6. **There will be negative marking. For every wrong answer ¼ mark will be deducted. In case you are not sure of answer or do not want to attempt any question, leave the space blank under the concerned Question No. in the OMR Answer-Sheet. Cutting, erasing, overwriting and more than one answer in the OMR Answer-Sheet will be treated as wrong answer.**

नकारात्मक अंकन होगा। प्रत्येक गलत उत्तर के लिए ¼ (चौथाई) अंक कम कर दिया जाएगा। यदि आप सही उत्तर के बारे में आशंका नहीं है या किसी प्रश्न का उत्तर नहीं देना चाहते तो उत्तर-पत्र के सम्बन्धित खाने को खाली छोड़ दें। ओ० एम० आर० उत्तर-पत्र पर काट-पीट, मिटाना और एक से अधिक उत्तर गलत माना जाएगा।

7. **Use only blue or black ball point pen in the OMR Answer-Sheet.**

ओ० एम० आर० उत्तर-पत्र पर केवल नीले या काले बॉल पॉइंट पेन का ही प्रयोग करें।

CJDEOT-2012/Set - Z/(A)



SEAL

1. Which among the following is the largest (area) Union Territory ?

- (1) Puducherry (2) Lakshadweep
(3) Andaman-Nicobar (4) Daman & Diu

निम्न में सबसे बड़ा केन्द्र शासित क्षेत्र कौन-सा है ?

- (1) पुडुचेरी (2) लक्षद्वीप
(3) अंडमान-निकोबार (4) दमन एवं दियु

2. Which dynasty among the following did emerge the earliest to rule ?

- (1) Tughlak dynasty (2) Sayyad dynasty
(3) Slave dynasty (4) Khalji dynasty

निम्न वंशों में सर्वप्रथम किस वंश का शासन हुआ ?

- (1) तुगलक वंश (2) सय्यद वंश
(3) दास वंश (4) खिलजी वंश

3. How many times do we breathe at rest (in adulthood) per minute ?

- (1) 20-25 (2) 72-75 (3) 13-17 (4) 5-8

हम (वयस्क) विश्राम की अवस्था में प्रति मिनट कितनी बार सांस लेते हैं ?

- (1) 20-25 (2) 72-75 (3) 13-17 (4) 5-8

4. Name the capital of Canada :

- (1) Toronto (2) Montreal
(3) Vancouver (4) Ottawa

कनाडा की राजधानी का नाम बताएँ :

- (1) टोरन्टो (2) मोन्ट्रियल
(3) वेनकुवर (4) ओटवा

5. Which among the following is the smallest religious minority in India ?

- (1) Sikhs (2) Christians
(3) Buddhists (4) Jain

भारत में सबसे छोटा अल्पसंख्यक समूह (धर्म) निम्न में कौन-सा है ?

- (1) सिक्ख (2) ईसाई
(3) बौद्ध (4) जैन

6. Who was the first woman to be the Union Minister in India ?

- (1) Sarojini Naidu (2) Sucheta Kriplani
(3) Vijai Lakshmi Pandit (4) Rajkumari Amrit Kaur

भारत में केन्द्रीय मन्त्री बनने वाली प्रथम महिला कौन थी ?

- (1) सरोजिनी नायडू (2) सुचेता कृपलानी
(3) विजय लक्ष्मी पंडित (4) राजकुमारी अमृत कौर

7. When do we observe National Youth Day ?

- (1) May, 8 (2) January, 12
(3) June, 5 (4) August, 29

हम राष्ट्रीय युवा दिवस कब मनाते हैं ?

- (1) 8 मई (2) 12 जनवरी
(3) 5 जून (4) 29 अगस्त

8. Eritrea is situated in

- (1) Europe (2) Africa
(3) Asia (4) South America

एरिट्रीया में स्थित है।

- (1) यूरोप (2) अफ्रीका
(3) एशिया (4) दक्षिण अमेरिका

9. What is the Life Expectancy (in years) as per Census India 2011 provisional figures ?

- (1) 70 (2) 72 (3) 65 (4) 67

भारत में जनगणना 2011 की अंतिम आंकड़ों के अनुसार जीवन प्रत्याशा (वर्ष) क्या है ?

- (1) 70 (2) 72 (3) 65 (4) 67

10. Who have been recently nominated to Rajya Sabha ?

- (1) Sachin Tendulkar
 (2) Rekha and Sachin Tendulkar
 (3) Anu Aga and Sachin Tendulkar
 (4) Rekha, Anu Aga and Sachin Tendulkar

हाल ही में राज्य सभा में किन्हें मनोनीत किया गया है ?

- (1) सचिन तेन्दुलकर
 (2) रेखा एवं सचिन तेन्दुलकर
 (3) अनु आगा एवं सचिन तेन्दुलकर
 (4) रेखा, अनु आगा एवं सचिन तेन्दुलकर

11. Name the capital of Assam :

- (1) Guwahati (2) Dibrugarh
 (3) Dispur (4) Jorhat

असम की राजधानी का नाम बताएँ :

- (1) गुवाहाटी (2) डिब्रुगढ़
 (3) दिसपुर (4) जोरहाट

12. Which river(s) flow through Iraq ?

- (1) Nile (2) Tigris
 (3) Euphrates and Tigris (4) Nile and Tigris

ईराक में कौन-सी नदी(याँ) बहती है ?

- (1) नील (2) टिगरिस
 (3) यूफ्रेटिस एवं टिगरिस (4) नील एवं टिगरिस

13. In which year Reserve Bank of India was created ?

- (1) 1921 (2) 1935 (3) 1947 (4) 1955

भारतीय रिज़र्व बैंक किस वर्ष में बनाया गया ?

- (1) 1921 (2) 1935 (3) 1947 (4) 1955

14. One gram of weight is equal to milligram.

- (1) 10 mg (2) 100 mg
(3) 1000 mg (4) 10,000 mg

एक ग्राम भार मिलीग्राम के बराबर होता है।

- (1) 10 मिग्रा० (2) 100 मिग्रा०
(3) 1000 मिग्रा० (4) 10,000 मिग्रा०

15. Who picked up IPL-5 cricket championship ?

- (1) Chennai Superkings (2) Mumbai Indians
(3) Kolkata Knight Riders (4) Delhi Daredevils

आई०पी०एल०-5 क्रिकेट प्रतियोगिता किसने जीती ?

- (1) चेन्नई सुपर किंग्स (2) मुंबई इंडियन्स
(3) कोलकाता नाइट राइडर्स (4) देहली डेयर डेविल्स

16. A person lent some money at 9% and the same amount at the rate of 10% for 2 years. He earns a simple interest of Rs. 760. Find the total amount invested :

- (1) Rs. 4,000 (2) Rs. 2,000
(3) Rs. 1,900 (4) Rs. 3,800

एक व्यक्ति ने कुछ धन 9% की दर से तथा उतना ही धन 10% वार्षिक की दर से 2 वर्ष के लिए उधार दिया। उसे 760 रु० साधारण ब्याज प्राप्त हुआ। बताएँ उसने कुल कितने धन का निवेश किया ?

- (1) 4,000 रु० (2) 2,000 रु०
(3) 1,900 रु० (4) 3,800 रु०

17. The list price of an article is Rs. 450. It is sold at two successive discounts of 10% and 5%. Find the sale price :

- (1) Rs. 395.25 (2) Rs. 384.75
(3) Rs. 382.50 (4) Rs. 435

एक वस्तु का मूल्य 450 रु० दिखाया गया है जिसकी खरीद पर दो उत्तरोत्तर छूट 10% एवं 5% दी गईं। विक्रय मूल्य बताएँ :

- (1) 395.25 रु० (2) 384.75 रु०
(3) 382.50 रु० (4) 435 रु०

18. A candidate secures 69% of the votes polled and wins the election by 570 votes. If there are only two candidates and no vote has been cancelled, how many votes were polled ?

- (1) 1,500 (2) 1,800 (3) 5,700 (4) 6,900

एक उम्मीदवार ने पड़े मतों का 69% प्राप्त करके 570 मतों से चुनाव जीता। यदि दो ही उम्मीदवार हों और एक भी मत रद्द न हुआ हो, तो कुल गिरे मतों की संख्या कितनी रही ?

- (1) 1,500 (2) 1,800 (3) 5,700 (4) 6,900

19. In a certain code MYSTIFY is coded as NZTUJGZ, how is NEMESIS coded in that code language ?

- (1) MDLHRDR (2) OFNFTJT
(3) PGOKUGU (4) ODNHTDT

एक कूट भाषा में MYSTIFY को NZTUJGZ के रूप में लिखा जाता है, NEMESIS कैसे लिखा जाएगा ?

- (1) MDLHRDR (2) OFNFTJT
(3) PGOKUGU (4) ODNHTDT

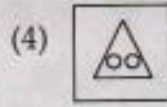
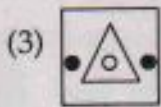
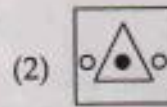
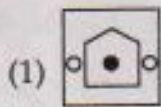
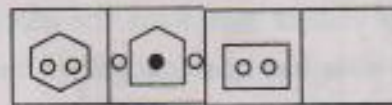
20. Two cubes each of side 10 cm, are joined end to end. What is the surface area of the resulting figure ?

- (1) 500 cm^2 (2) $1,500 \text{ cm}^2$
 (3) $1,000 \text{ cm}^2$ (4) $1,200 \text{ cm}^2$

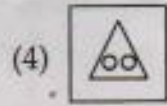
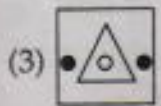
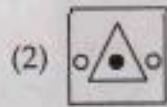
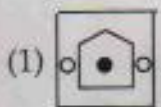
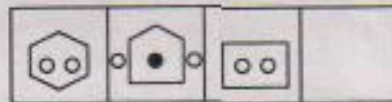
दस सेमी भुजा के दो क्यूब (घन) एक ओर से परस्पर जुड़े हैं। नई आकृति का सतही क्षेत्रफल क्या है ?

- (1) 500 सेमी^2 (2) $1,500 \text{ सेमी}^2$
 (3) $1,000 \text{ सेमी}^2$ (4) $1,200 \text{ सेमी}^2$

21. Which alternative does fill up the blank ?



कौन-सा विकल्प रिक्त स्थान को भरता है ?



22. Ravi starts from a point on his bicycle to ride 8 km to North then takes a left turn to move 11 km. There after he rides 24 km Southward and finally turn to left to stop after a ride of 11 km. How far and in which direction is he now ?

- (1) 32 Km, West (2) 2 Km, South
(3) 16 Km, South (4) On starting point

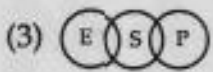
रवि एक स्थान से अपनी साईकिल पर उत्तर की ओर 8 किमी चल कर बाएँ मुड़ जाता है और 11 किमी चलता है। वहाँ से वह 24 किमी दक्षिण की ओर चल कर बाएँ मुड़ कर 11 किमी पर रुक जाता है। वह अब दिशा में कितनी दूर है ?

- (1) 32 किमी, पश्चिम (2) 2 किमी, दक्षिण
(3) 16 किमी, दक्षिण (4) प्रारम्भिक स्थान पर

23. Which diagram represents Sun(S), Planets(P), Earth (E) ?



सूर्य (S), ग्रहों (P), पृथ्वी (E) को कौन-सा चित्र निरूपित करता है ?



24. Choose the odd one :

- (1) Chameleon (2) Crocodile
(3) Alligator (4) Locust

बेमेल चुनें :

- (1) गिरगिट (2) मगर
(3) गोह (4) टिड्डी

25. What is equal to $\sqrt{384.16} = ?$

- (1) 196 (2) 19.6 (3) 61.98 (4) 6.19

$\sqrt{384.16} = ?$ के बराबर क्या होगा

- (1) 196 (2) 19.6 (3) 61.98 (4) 6.19

26. Find one number from the given choices which can fill both blanks :

$$\frac{0.27}{?} = \frac{?}{0.03}$$

- (1) 9.00 (2) 0.009 (3) 0.90 (4) 0.09

दिये गये विकल्पों में से ऐसी संख्या चुनें जो दोनों रिक्त स्थानों को भर सके :

$$\frac{0.27}{?} = \frac{?}{0.03}$$

- (1) 9.00 (2) 0.009 (3) 0.90 (4) 0.09

27. Simplify the following :

$$7 + 15 + 5 \times 4 - 6 = ?$$

- (1) 34 (2) -4.9 (3) 13 (4) 1

निम्न को सरल करें :

$$7 + 15 + 5 \times 4 - 6 = ?$$

- (1) 34 (2) -4.9 (3) 13 (4) 1

28. Complete the series :

3, 9, 13, 4, 12, 16, 5, 15

- (1) 19 (2) 20 (3) 6 (4) 45

शृंखला को पूरा करें :

3, 9, 13, 4, 12, 16, 5, 15

- (1) 19 (2) 20 (3) 6 (4) 45

29. Complete the analogy :

Newspaper : Press :: Cloth : ?

- (1) Tailor (2) Fibre
(3) Mill (4) Cotton

सादृश्य को पूरा करें

समाचारपत्र : मुद्रणालय :: कपड़ा : ?

- (1) दर्जी (2) धागा
(3) कारखाना (4) कपास

30. Choose the analogous to

Hen : Chicken

- (1) Lion : Lioness (2) Lamb : Sheep
(3) Butterfly : Caterpillar (4) Ostrich : Bird

सदृश चुनें

मुर्गी : चूजे

- (1) शेर : शेरनी (2) मेमना : भेड़
(3) तितली : सूँडी (4) ऑस्ट्रिच : पक्षी

31. A high speed, high capacity transmission medium that can carry signal from multiple independent network carrier is :

- (1) Narrow band channel
- (2) Voice band channel
- (3) Broad band channel
- (4) None

एक उच्च गति, उच्च क्षमता का संचरण माध्यम जो विविध independent Network Carriers से संकेत (signal) ले जा सकता है :

- (1) Narrow band channel
- (2) Voice band channel
- (3) Broad band channel
- (4) उपरोक्त में से कोई नहीं

32. URL stands for :

- (1) Uniform Read Locator
- (2) Uniform Resource Locator
- (3) Unicode Research Location
- (4) United Research Locator

URL किसका संक्षिप्तीकरण है ?

- (1) Uniform Read Locator
- (2) Uniform Resource Locator
- (3) Unicode Research Location
- (4) United Research Locator

33. Machine code is a :

- (1) Low level language
- (2) High level language
- (3) Software language
- (4) Compiler

मशीन कोड है।

- (1) Low level language
- (2) High level language
- (3) Software language
- (4) Compiler

34. What does OCR stands for ?

- (1) Optical Character Reader
- (2) Operational Character Reader
- (3) Optical Character Recognition
- (4) Only Character Reader

OCR किसका संक्षिप्तीकरण है ?

- (1) Optical Character Reader
- (2) Operational Character Reader
- (3) Optical Character Recognition
- (4) Only Character Reader

35. The octal equivalent of 111010 is :

- (1) 81
- (2) 72
- (3) 71
- (4) None of these

बाइनरी (Binary) नम्बर 111010 का octal equivalent क्या है ?

- (1) 81
- (2) 72
- (3) 71
- (4) उपरोक्त में कोई भी नहीं

36. What does .com domain represent ?

- | | |
|----------------------|-----------------------|
| (1) Education domain | (2) Commercial domain |
| (3) Network | (4) None of the above |

.com डोमेन (Domain) क्या दर्शाता है ?

- | | |
|-------------------|--------------------------------|
| (1) एजुकेशन डोमेन | (2) कमर्शियल डोमेन |
| (3) नेटवर्क | (4) उपरोक्त में से कुछ भी नहीं |

37. Two kinds of main memory are :

- | | |
|------------------------|------------------------|
| (1) Primary, Secondary | (2) Random, Sequential |
| (3) RAM, ROM | (4) All of the above |

मुख्य स्मृति (main memory) के दो प्रकार क्या हैं ?

- | | |
|------------------------|------------------------|
| (1) Primary, Secondary | (2) Random, Sequential |
| (3) RAM, ROM | (4) उपरोक्त सभी |

38. Firewall in a Computer Network is :

- (1) the physical boundary of network
- (2) an operating system of computer network
- (3) A system devised to prevent unauthorized access
- (4) A web browsing software

कम्प्यूटर नेटवर्क में Firewall क्या होता है ?

- (1) नेटवर्क की भौतिक सीमा
- (2) नेटवर्क का ऑपरेटिंग (operating) सिस्टम
- (3) प्रणाली (system) को अनाधिकृत पहुँच से बचाने के लिए
- (4) Web Browser सॉफ्टवेयर

39. Computer size was very large in :

- | | |
|----------------------|-----------------------|
| (1) First Generation | (2) Second Generation |
| (3) Third Generation | (4) Fourth Generation |

कम्प्यूटर का आकार बहुत बड़ा था :

- | | |
|---------------------|---------------------|
| (1) पहली पीढ़ी में | (2) दूसरी पीढ़ी में |
| (3) तीसरी पीढ़ी में | (4) चौथी पीढ़ी में |

40. Digital systems are systems which :

- (1) deal with digital information in the external world
- (2) uses analog signals
- (3) manipulate information
- (4) handle information in digital form internally

Digital सिस्टम

- (1) बाहरी दुनिया में डिजिटल information deal करते हैं
- (2) analog signals प्रयोग करते हैं
- (3) information का हेरफेर (manipulate) करते हैं
- (4) डिजिटल information को आंतरिक (internally) handle करते हैं

41. Who is known as the father of computers ?

- | | |
|----------------------|-------------------|
| (1) Herman Hollerith | (2) Grace Hoppers |
| (3) Charles Babbage | (4) Newton |

..... को कम्प्यूटर का जन्मदाता जाना जाता है।

- | | |
|----------------------|-------------------|
| (1) Herman Hollerith | (2) Grace Hoppers |
| (3) Charles Babbage | (4) Newton |

42. The main advantage of magnetic core memory over semiconductor RAM is :

- (1) more compact and smaller
- (2) more economical
- (3) more compact & large
- (4) more volatile

मैग्नेटिक कोर मेमोरी का सेमीकंडक्टर RAM के ऊपर मुख्य लाभ है :

- (1) अधिक कॉम्पैक्ट और छोटा
- (2) अधिक किफायती
- (3) अधिक कॉम्पैक्ट और बड़ा
- (4) अधिक अस्थिर

43. Unsolicited commercial e-mail is commonly known as :

- (1) junk
- (2) hoaxes
- (3) spam
- (4) hypertext

अवांछित (unsolicited) व्यावसायिक ई-मेल सामान्यतः जाना जाता है

- (1) जंक
- (2) होक्स
- (3) स्पाम
- (4) हाइपरटेक्स्ट

44. Which of the following refers to transfer of a file from your computer to a remote computer ?

- (1) FTP
- (2) Uploading
- (3) Downloading
- (4) Telnet

निम्नलिखित में से क्या एक File को एक कम्प्यूटर से किसी दूरस्थ कम्प्यूटर पर ले जाने के संदर्भ में प्रयोग किया जाता है

- (1) FTP
- (2) Uploading
- (3) Downloading
- (4) Telnet

45. are used to connect two dissimilar LANS.

- (1) Bridges (2) Gateways
(3) Router (4) All of the above

..... को दो विभिन्न LANS को जोड़ने के लिए प्रयोग किया जाता है

- (1) Bridges (2) Gateways
(3) Router (4) उपरोक्त सभी

46. Which of the following command is *not* available in Tools menu ?

- (1) Auto text (2) Auto correct
(3) Auto summarize (4) Macro

Tools मेनू पर निम्न में से कौन-सी command मौजूद नहीं होती ?

- (1) Auto text (2) Auto correct
(3) Auto summarize (4) Macro

47. Which of the following can *not* be used to create parallel style column ?

- (1) Format Tabs (2) Table Insert Table
(3) Insert Textbox (4) Format Columns

निम्न में से कौन-सा समानान्तर स्टाइल के Column बनाने में प्रयोग नहीं लाया जा सकता ?

- (1) Format Tabs (2) Table Insert Table
(3) Insert Textbox (4) Format Columns

48. What is the shortcut key for "subscript" the selected text ?

- (1) Ctrl + = (2) Ctrl + -
 (3) Ctrl + Shift + = (4) Ctrl + Shift + -

चयनित टेक्स्ट को "subscript" करने के लिये shortcut चाबी कौन-सी होती है ?

- (1) Ctrl + = (2) Ctrl + -
 (3) Ctrl + Shift + = (4) Ctrl + Shift + -

49. What is the shortcut key to Update Formula in a table ?

- (1) F9 (2) Alt + F9
 (3) Ctrl + F9 (4) Shift + F9

टेबल में फॉर्मूला अपडेट करने के लिये shortcut चाबी कौन-सी होती है ?

- (1) F9 (2) Alt + F9
 (3) Ctrl + F9 (4) Shift + F9

50. What is the shortcut key to "Undo" the last action in a document ?

- (1) Ctrl + X (2) Ctrl + Y
 (3) Ctrl + Z (4) None of the above

दस्तावेज में आखिरी कार्य को "Undo" करने के लिये shortcut चाबी कौन-सी होती है ?

- (1) Ctrl + X (2) Ctrl + Y
 (3) Ctrl + Z (4) उपरोक्त में से कोई नहीं

51. What is the short cut key to open the Open dialog box ?

- (1) F12 (2) Shift + F12
 (3) Alt + F12 (4) Ctrl + F12

Open डायलॉग बॉक्स खोलने के लिये short cut चाबी कौन-सी है ?

- (1) F12 (2) Shift + F12
 (3) Alt + F12 (4) Ctrl + F12

52. What are inserted as cross-reference in Word ?

- | | |
|------------------|-----------------|
| (1) Placeholders | (2) Bookmarks |
| (3) Objects | (4) Word Fields |

Word में कौन-से cross-reference insert किये जाते हैं ?

- | | |
|------------------|-----------------|
| (1) Placeholders | (2) Bookmarks |
| (3) Objects | (4) Word Fields |

53. Which would you choose to save a document with a new name ?

- (1) Press Ctrl + S
- (2) Click File, Save
- (3) Click Tools, Options, Save
- (4) Click File, Save As

निम्न में से document को नये नाम से save करने के लिये कौन-सा प्रयोग में लाते हैं ?

- (1) Ctrl + S को दबाना
- (2) क्लिक File, Save
- (3) क्लिक Tools, Options, Save
- (4) क्लिक File, Save As

54. Which of the following do you use to change margins ?

- (1) Formatting toolbar
- (2) Page Setup dialog box
- (3) Standard toolbar
- (4) Paragraph dialog box

निम्नलिखित में से margin बदलने के लिये क्या प्रयोग करते हैं ?

- (1) Formatting टूलबार
- (2) page setup डायलॉग बॉक्स
- (3) Standard टूलबार
- (4) Paragraph डायलॉग बॉक्स

55. We can replace a font on all slides with another font using the option ?

- (1) Edit → Fonts
- (2) Tools → Fonts
- (3) Tools → Replace Fonts
- (4) Format → Replace Fonts

निम्न में से कौन-से विकल्प द्वारा सभी स्लाइडों में existing font को दूसरे font से replace किया जा सकता है ?

- (1) Edit → Fonts
- (2) Tools → Fonts
- (3) Tools → Replace Fonts
- (4) Format → Replace Fonts

56. To insert new slide in the Current Presentation we can choose :

- (1) Ctrl + M
- (2) Ctrl + N
- (3) Ctrl + O
- (4) Ctrl + F

Current प्रेजेंटेशन में एक नयी स्लाइड को डालने के लिये निम्न में से किसका प्रयोग कर सकते हैं ?

- (1) Ctrl + M
- (2) Ctrl + N
- (3) Ctrl + O
- (4) Ctrl + F

57. A File which contains readymade styles that can be used for a Presentation is called :

- (1) Auto Style
- (2) Template
- (3) Wizard
- (4) Pre-formatting

निम्न में से कौन-सी फाइल में readymade स्टाइल होते हैं जो प्रेजेंटेशन के लिये प्रयोग में आते हैं ?

- (1) Auto Style
- (2) Template
- (3) Wizard
- (4) Pre-formatting

58. Power Point presentation is a collection of

- (1) Slides and Handouts (2) Speaker's notes
(3) Outlines (4) All of the above

Power Point प्रेजेंटेशन निम्न में से किनका संग्रह है ?

- (1) Slides and Handouts (2) Speaker's notes
(3) Outlines (4) ऊपर वाले सभी

59. Which is *not* the one of view options provided by Power Point to look at and modify presentation ?

- (1) Slide Show (2) Format Slide
(3) Slide Sorter (4) Normal

निम्न में से Power Point का प्रेजेंटेशन को देखने और बदलने के लिये कौन-सा view option नहीं है ?

- (1) Slide Show (2) Format Slide
(3) Slide Sorter (4) Normal

60. How can you stop a slide show ?

- (1) Press the right arrow (2) Press Escape
(3) Press the left arrow (4) Press the down arrow

आप Slide Show को कैसे रोक सकते हैं ?

- (1) दायें arrow को दबायें (2) Escape दबायें
(3) बायें arrow को दबायें (4) Down arrow को दबायें

61. Slide sorter of Power Point is available on menu.

- (1) Insert (2) File (3) View (4) Edit

Power Point का Slide sorter फीचर मेनू पर उपलब्ध होता है।

- (1) Insert (2) File (3) View (4) Edit

62. The spelling dialog box can be involved by choosing spelling from menu.

- (1) Insert (2) File (3) Tools (4) View

Spelling डायलॉग बॉक्स को मेनू से Spelling का चुनाव करके शामिल किया जा सकता है।

- (1) Insert (2) File (3) Tools (4) View

63. All worksheet formula :

- (1) Manipulate values
(2) Return a formula result
(3) Manipulate labels
(4) Use the addition operator

सभी वर्कशीट फार्मूले निम्न में से क्या करते हैं ?

- (1) Values को manipulate करते हैं
(2) फार्मूले का नतीजा देते हैं
(3) लेबलों को manipulate करते हैं
(4) addition ऑपरेटर का प्रयोग करते हैं

64. Documentation should include :

- (1) Destination and users of the output data
(2) Source of input data
(3) Information on the purpose of the workbook
(4) All of the above

Documentation में निम्न में से क्या शामिल है ?

- (1) गंतव्य एवं आउटपुट डाटा के यूजर
(2) सोर्स ऑफ इनपुट डाटा
(3) वर्कबुक के मकसद से सम्बन्धित सूचना
(4) उपरोक्त सभी

65. Getting data from a cell located in a different sheet is called

- (1) Accessing (2) Referencing
(3) Updating (4) Functioning

एक अलग sheet में स्थित cell से डाटा लेने को कहते हैं।

- (1) Accessing (2) Referencing
(3) Updating (4) Functioning

66. Which of the following is *not* an example of a value ?

- (1) 350 (2) May 10, 2012
(3) 57% (4) Serial Number 50771

निम्न में से कौन-सा value का उदाहरण *नहीं* है ?

- (1) 350 (2) May 10, 2012
(3) 57% (4) Serial Number 50771

67. Which of the following formulas will Excel *not* be able to calculate ?

- (1) = SUM (Sales) - A3
(2) = SUM (A1 : A5) * 0.5
(3) = SUM (A1 : A5) / (10 - 10)
(4) = SUM (A1 : A5) - 10

निम्न में से Excel कौन-सा फार्मूला calculate *नहीं* कर पायेगा ?

- (1) = SUM (Sales) - A3
(2) = SUM (A1 : A5) * 0.5
(3) = SUM (A1 : A5) / (10 - 10)
(4) = SUM (A1 : A5) - 10

68. Which of the following is an absolute cell reference ?

- (1) !A!1 (2) \$A\$1
(3) #a#1 (4) A1

निम्न में से कौन-सा absolute cell reference है ?

- (1) !A!1 (2) \$A\$1
(3) #a#1 (4) A1

69. To view a cell comment :

- (1) Click the edit comment command on the insert menu
(2) Click the display comment command on the window menu
(3) Position the mouse pointer over the cell
(4) Click the comment command on the view menu

एक cell की टिप्पणियों को देखने के लिये निम्न में से क्या करते हैं ?

- (1) Insert मेनू पर जाकर edit comment को क्लिक करते हैं
(2) Window मेनू पर जाकर display comment को क्लिक करते हैं
(3) Mouse प्वाइंटर को cell पर रखते हैं
(4) View मेनू पर comment कमांड को क्लिक करते हैं

70. Concatenation of text can be done using :

- (1) Apostrophe (') (2) Exclamation (!)
(3) Hash (#) (4) Ampersand (&)

Text को निम्न में से किस द्वारा concatenate किया जा सकता है ?

- (1) Apostrophe (') (2) Exclamation (!)
(3) Hash (#) (4) Ampersand (&)

71. Select the correct form of the verb from the options to fill in the blank in the following sentence :

I will call you on phone when he back.

- (1) will come (2) comes (3) is coming (4) return

72. Select the correct option to fit in the blanks in the following para :

Letter writing is a bit difficult job. Famous letter-writers were very They wrote letters which are read by people with

- (1) casual, excellent, case (2) careless, difficult, attention
(3) serious, excellent, attention (4) serious, excellent, carelessness

73. Select the correct option to fill in the blank in the following sentence :

Why him yesterday ?

- (1) you didn't meet (2) you haven't meet
(3) haven't you met (4) didn't you meet

74. Read the following passage and select the statement best supported by it :

Things in metropolitan India are gradually changing. Women are being recognised by employers, particularly in corporate sector as temperamentally more suitable in this age. Visit any advertising agency or ad-film maker's office, the male-female ratio leans heavily towards the female population.

Statements :

- (1) Women are heading most of the ad-agencies
(2) Women are believed to be more suitable to handle infotech jobs/offices
(3) Only elite women join the corporate sector
(4) Male-female in the society is gradually changing

75. Read the following passage and select the correct answer :

The first official results of Mexico's Presidential election, declared on 1st July 2012 showed Lopez Obrador with 31 percent of vote against 38 percent for Pena Nieto of Institutional Revolutionary Party. When Obrador lost the 2006 presidential election, he claimed fraud and organised mass protests. The president-elect pledged to focus on energy, labour and tax reforms, and hoped to strike deals with his opponents to take the country forward.

- (1) Lopez Obrador has been elected President of Mexico
- (2) Pena Nieto has been voted to power in Mexico
- (3) Pena Nieto will organise protests to expose fraud in the election
- (4) Obrador will introduce energy, labour and tax reforms

76. The following sentence has an error in one of its part. The number assigned to the part is the answer. Ignore errors of punctuation, if any. Mark the correct answer :

We are looking forward for good rains this year.

- | | |
|-------------------------|---------------|
| (1) looking forward for | (2) we are |
| (3) good rains | (4) this year |

77. One of the following sentences is correct, While the rest three have some error(s). Select the correct sentence :

- (1) The accused admitted his guilt in the court
- (2) The accused confessed his guilt in the court
- (3) The accused agreed to his guilt in the court
- (4) The accused accepted his guilt in the court

78. Select the correct option reflecting correct meaning of the word 'Dauntless'.

- | | |
|--------------|------------------|
| (1) Coward | (2) Wavering |
| (3) Fearless | (4) Compromising |

79. Select the option which is a synonym of the word 'Nefarious'.
- (1) Virtuous (2) Upright
(3) None of the above (4) Evil
80. Select the option having meaning similar to the word 'clumsy'.
- (1) Ungainly (2) Tactful
(3) Attractive (4) Graceful
81. Select the antonym of the word 'Serviceable' from the options given below :
- (1) Unservicable (2) Inservicable
(3) Unserviceable (4) Nonserviceable
82. Select the correct antonym of the word 'Mysterious' from the options given below :
- (1) Straightforward (2) Puzzling
(3) Hidden (4) None of the above
83. Select the option with correct spelling of the word.
- (1) Deliberatly (2) Delibrately
(3) Deliberetely (4) Deliberately
84. Select the option which is antonym of the word 'Auspicious' :
- (1) Unauspicious (2) Non-auspicious
(3) Inauspicious (4) Favourable
85. Select the option with correct spelling of the word :
- (1) Acquiscence (2) Acquiescence
(3) Acquiesence (4) Acquisence

86. सही अर्थ वाला विकल्प चुनिए :

अन्वेषण

- | | |
|------------|------------|
| (1) शोध | (2) अनुकरण |
| (3) अनुमति | (4) अन्यथा |

87. निम्नलिखित शब्दों में से कौन-सा शब्द अशुद्ध है ?

- | | |
|-------------|-------------|
| (1) नवनिहाल | (2) खेतीहर |
| (3) देवर्षि | (4) धुरन्धर |

88. निम्नलिखित शब्दों में से कौन-सा शब्द 'ढोंग' शब्द का पर्यायवाची नहीं है ?

- | | |
|--------------|-------------|
| (1) आडम्बर | (2) स्वोंग |
| (3) विभीषिका | (4) प्रपञ्च |

89. निम्नलिखित शब्दों में से 'वरिष्ठ' शब्द के विपरीतार्थक शब्द का चयन कीजिए :

- | | |
|---------------|------------|
| (1) अनावृष्टि | (2) अनिष्ट |
| (3) अवरिष्ठ | (4) कनिष्ठ |

90. सही अर्थ वाला विकल्प चुनिए :

निष्ठुर -

- | | |
|-----------|----------|
| (1) दैत्य | (2) कठोर |
| (3) आरोपी | (4) कपटी |

91. निम्नलिखित शब्दों में से शुद्ध शब्द चुनिए :

- | | |
|------------|-----------------|
| (1) अतिथी | (2) अन्तर्ध्यान |
| (3) आलौकिक | (4) अभिशोक |

92. निम्नलिखित शब्दों में से कौन-सा शब्द 'ईमानदारी' शब्द का पर्यायवाची नहीं है ?

- | | |
|---------------|--------------|
| (1) निष्कपटता | (2) निश्चलता |
| (3) सदाशयता | (4) उत्पात |

93. निम्नलिखित शब्दों में से 'आहार' शब्द के विपरीतार्थक शब्द का चयन कीजिए :

- | | |
|--------------|-----------------|
| (1) निराहार | (2) अनाहार |
| (3) शाकाहारी | (4) दुर्व्यवहार |

94. नीचे दिए गए वाक्य में रिक्त स्थान भरने के लिए सही विकल्प चुनिए :

हमारा देश धीरे-धीरे आत्मनिर्भरता के की ओर बढ़ रहा है।

- | | |
|--------------|-------------|
| (1) उद्देश्य | (2) मकसद |
| (3) लक्ष्य | (4) गन्तव्य |

95. नीचे दिए गए वाक्य में रिक्त स्थान भरने के लिए सही विकल्प चुनिए :

सदन के नेता ने जोरदार शब्दों में विपक्ष के तर्कों का किया।

- | | |
|------------|-----------|
| (1) समर्थन | (2) खण्डन |
| (3) मन्थन | (4) विरोध |

96. नीचे दिए गए विकल्पों में से सही वाक्य छँटिए :

- (1) रागिनी अपने आप चली गई।
- (2) रागिनी खुद से चली गई।
- (3) रागिनी अपने से ही चली गई।
- (4) रागिनी स्वयं से ही चली गई।

97. नीचे लिखे वाक्य को चार पदों में बँटकर क्रमानुसार लिखा गया है। इनमें से एक पद, वाक्य के संदर्भ में, त्रुटियुक्त है। त्रुटियुक्त पद को छँटिए :

हरि ने यह आग्रह कर लिया है कि वह शिक्षा समाप्त कर लेने के पश्चात् ही नौकरी के लिए आवेदन करेगा।

- (1) हरि ने यह आग्रह कर लिया है कि
- (2) वह शिक्षा समाप्त कर लेने के पश्चात् ही
- (3) नौकरी के लिए
- (4) आवेदन करेगा

98. निम्नलिखित गद्यांश को पढ़कर इसके नीचे दिए गए उत्तरों में से सही उत्तर छाँटिए :

जिन्दगी के असली मजे उनके लिए नहीं हैं जो फूलों की छाँह के नीचे खेलते व सोते हैं। फूलों की छाँह के नीचे अगर कोई मजा है, तो उसको वे लोग ही महसूस कर सकते हैं जो दूर रेगिस्तान से आ रहे हैं, जिनका कंठ सूखा है, ओठ फटे हुए हैं और सारा बदन पसीने से तर है।

उपर्युक्त गद्यांश में किस बात के महत्त्व को बताया है ?

- | | |
|-------------|-----------|
| (1) प्रकृति | (2) श्रम |
| (3) जीवन | (4) भाग्य |

99. सही अर्थ वाला विकल्प चुनिए :

परितोजना -

- | | |
|--------------|--------------|
| (1) उत्तेजना | (2) परियोजना |
| (3) संरक्षण | (4) त्यागना |

100. नीचे एक शब्द की वर्तनी के अनेक रूप प्रस्तुत हैं। इनमें से शुद्ध वर्तनी का चयन कीजिए :

- | | |
|-------------|-----------|
| (1) गृहिणी | (2) गृहणी |
| (3) ग्रहिणी | (4) गृहणि |